




- 1 - Os membros da sua família
- 2 - O passado familiar mais longínquo
- 3 - O passado do meio local
- 4 - Conhecer costumes e tradições de outros povos
- 5 - Reconhecer símbolos locais
- 6 - Conhecer símbolos regionais
- 7 - Outras culturas de outras comunidades

NOME

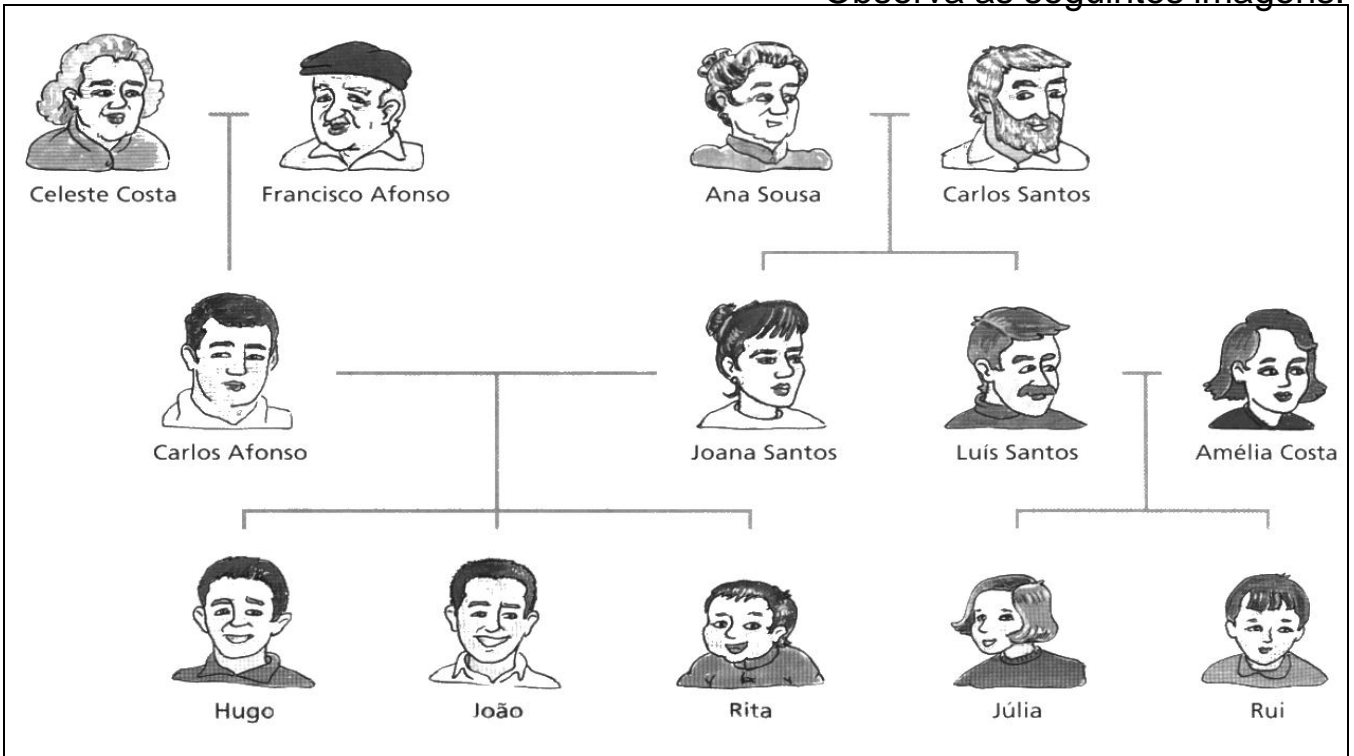


# OS MEMBROS DA MINHA FAMÍLIA

ESTABELEÇO RELAÇÕES DE PARENTESCO : avós, pais, irmãos, tios, sobrinhos

Quem pertence à nossa família ?

Observa as seguintes imagens.



Como podes observar, nas imagens estão representados todos os elementos da família do Hugo.

A esta forma de representar uma família chama-se **árvore genealógica**.

A **família** é formada pelos nossos pais, irmãos, avós, tios e primos.

Uns vivem na nossa casa e outros vivem noutras casas.

As pessoas da família são os nossos **parentes** ou **familiares**.

Os teus pais, avós, tios e primos são os familiares mais chegados.

Os **avós maternos** são os pais da nossa mãe.

Os **avós paternos** são os pais do nosso pai.


Os **tios** são os irmãos dos nossos pais.

Os **primos** são os filhos dos nossos tios.

NOME

DATA

1 – Observa a árvore genealógica da família do Rui e descobre quem são os seus pais, irmãos, avós, tios e primos.



2 – Completa.

O Rui tem \_\_\_\_\_ irmã que se chama \_\_\_\_\_ e um irmão de nome \_\_\_\_\_.

Os pais do Rui são o \_\_\_\_\_ e a \_\_\_\_\_.

O Rui tem dois primos, o \_\_\_\_\_ e a \_\_\_\_\_, que são filhos do seu tio \_\_\_\_\_ e da tia \_\_\_\_\_.

A Rosa é \_\_\_\_\_ do Rui por parte do \_\_\_\_\_.

O João é \_\_\_\_\_ do Rui por parte da \_\_\_\_\_.

Os avós paternos do Rui são o \_\_\_\_\_ e a \_\_\_\_\_.

Os avós maternos do Rui são o \_\_\_\_\_ e a \_\_\_\_\_.

NOME

DATA

## Quem são os nossos amigos ?

Todos temos uma família. Mas além da família, temos vizinhos, amigos, colegas da escola ou do trabalho, com quem nos relacionamos.



1 – O que se passa na imagem ? \_\_\_\_\_

2 – Completa os balões de fala.

3 – O que pensas desta família ? \_\_\_\_\_

4 – Quantos anos faz o Hugo ? \_\_\_\_\_

5 – Quem gostarias de convidar para a festa do teu aniversário ?

\_\_\_\_\_

\_\_\_\_\_

6 – Indica as pessoas que estão na festa.

- vizinhos
- amigos da escola
- um pescador da vila
- o presidente da Junta de Freguesia

- avós
- irmão do Hugo
- primos
- pais

# OS MEMBROS DA MINHA FAMÍLIA

ESTABELEÇO RELAÇÕES DE PARENTESCO : avós, pais, irmãos, tios, sobrinhos

## O que aconteceu na nossa família ?

As pessoas são da mesma família pelo casamento e pelos laços de sangue.

Por vezes, as pessoas da mesma família têm algumas semelhanças :

O nariz, os olhos ou até a maneira de ser.

Em todas as famílias há acontecimentos importantes.

Na família Afonso, estes acontecimentos passaram-se  
Nas décadas de 30, 50 e 90.

A **década** é um período de dez anos.



Em **1931**, nasceu em Vila Moinho o Sr. Francisco.



Em **1950**, o Sr. Francisco casou com a Celeste Costa na capela do Monte.

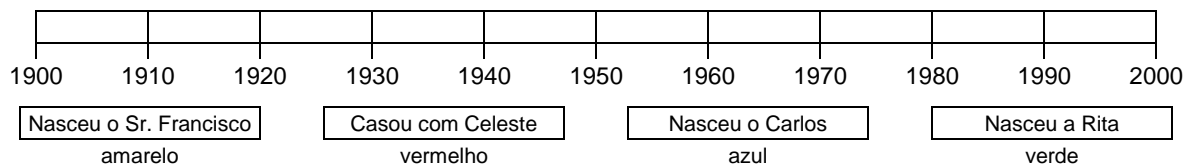


Em **1953**, nasceu o Carlos, o primeiro filho do senhor Francisco.



Em **2000**, nasceu a Rita, a sua última neta.

Indica na linha do tempo os acontecimentos mais importantes da família Afonso.



NOME

DATA

**1 – Quem faz parte da tua família ?**


---



---

**2 – Completa.**

- Os pais da tua mãe são os teus \_\_\_\_\_.
- Os pais do teu \_\_\_\_\_ são os teus avós paternos.
- O irmão da mãe é nosso \_\_\_\_\_.
- A tia é \_\_\_\_\_ do nosso pai, ou da nossa \_\_\_\_\_.
- Os filhos dos meus tios são meus \_\_\_\_\_.

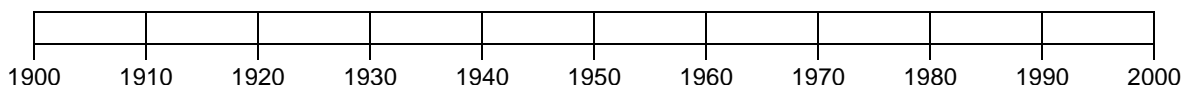
irmã
mãe
pai
primos
avós maternos

**3 – Assinala a resposta correcta.**

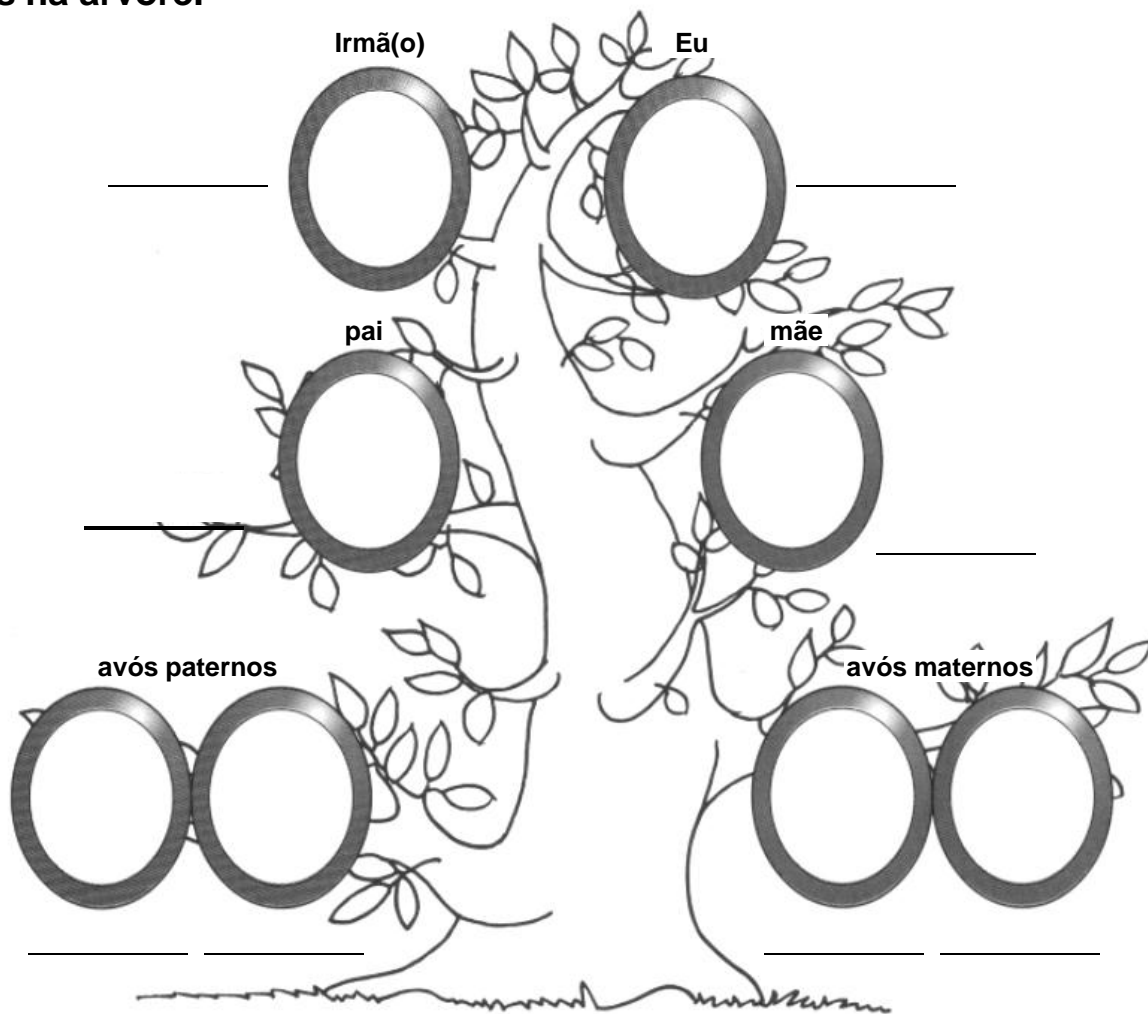
- |   |  |
|---|--|
| • O que é uma década ?                                | • Em que década nasceste ?             |
| <input type="checkbox"/> Um acontecimento importante. | <input type="checkbox"/> Década de 80. |
| <input type="checkbox"/> Um período de dez anos.      | <input type="checkbox"/> Década de 70. |
| <input type="checkbox"/> Um período de vinte anos.    | <input type="checkbox"/> Década de 90. |

**4 – Dos seguintes espaços de tempo, assinala aqueles que representam uma década.**

- |  |  |
|--|--|
| <input type="checkbox"/> De 1980 até 1990. | <input type="checkbox"/> De 1960 até 1970. |
| <input type="checkbox"/> De 1982 até 1986. | <input type="checkbox"/> De 1975 até 1977. |
| <input type="checkbox"/> De 1971 até 1991. | <input type="checkbox"/> De 1983 até 1993. |
| <input type="checkbox"/> De 1977 até 1997. | <input type="checkbox"/> De 1989 até 2000. |

**5 – Escolhe dois familiares teus. Assinala na linha do tempo quando eles nasceram.****5 – Assinala agora o teu ano de nascimento.**

**7 – Constrói a árvore genealógica da tua família com desenhos. Escreve o nome de cada membro da tua família. Se tiveres irmão podes acrescentá-los na árvore.**



**8 – Há famílias grandes, ou seja, com vários irmãos, primos, tios, etc., e há também famílias pequenas.**

- A tua família é grande ou pequena ? \_\_\_\_\_
- O que pensas sobre as famílias muito grandes ou muito pequenas ?

---

---

**8 – Diz qual é a pessoa da tua família de que mais gostas. Escreve um texto sobre ela dando as tuas razões.**

---

---


---

---

NOME

DATA

1 Descobre relações de parentesco entre os elementos desta família. Completa.



Os avós maternos da Joana chamam-se \_\_\_\_\_

Os avós paternos \_\_\_\_\_

Os primos \_\_\_\_\_

2 Assinala, com um ☒, as afirmações verdadeiras.

Os pais dos meus pais são os meus avós.

Os filhos dos meus pais são os meus irmãos.

Os irmãos dos meus pais são os meus primos.

3 Como é formada a tua família?

---



---




4 Faz o registo dos teus familiares mais próximos.

NOMES	NATURALIDADE	PARENTESCO
_____	_____	_____
_____	_____	_____
_____	_____	_____
_____	_____	_____

5 Diz há quantas décadas nasceu...

- o teu pai: \_\_\_\_\_
- a tua avó materna: \_\_\_\_\_
- a tua mãe: \_\_\_\_\_
- o teu avô paterno: \_\_\_\_\_

6 Ordena alguns acontecimentos que formam a história de uma família.



7 Indica datas e factos importantes para a história da tua família. Localiza-os.

---

---

---

# O PASSADO DO MEIO LOCAL

IDENTIFICO FIGURAS DA HISTÓRIA LOCAL PRESENTE NA TOPONÍMIA ESTATUTÁRIA, TRADIÇÃO ORAL, ETC.

## ANTIGAMENTE


Os primeiros homens que habitaram a Terra há muitos, muitos anos, viviam separados uns dos outros. Eles deslocavam-se de uns lugares para os outros e ocupavam as suas vidas defendendo-se dos animais selvagens, pescando e caçando para poderem comer e vestir-se.



Estes homens tinham todos os mesmos problemas. Por isso, resolverem viver juntos e dividir o trabalho que tinham a fazer. Surgiram, assim, os primeiros povoados e as primeiras regras para poderem viver em conjunto. Com o passar dos tempos, os povoados foram-se tornando maiores. As populações organizaram-se e entregaram-se a novas tarefas, como a agricultura e a criação de animais, o comércio e as indústrias artesanais. Criaram, portanto, os seus costumes e as suas tradições, para sempre ligados à origem e história de cada terra.

## ACTUALMENTE

Actualmente vivemos agrupados em grandes cidades, vilas e aldeias. Cada vez são mais raros os lugares onde o homem vive sozinho.



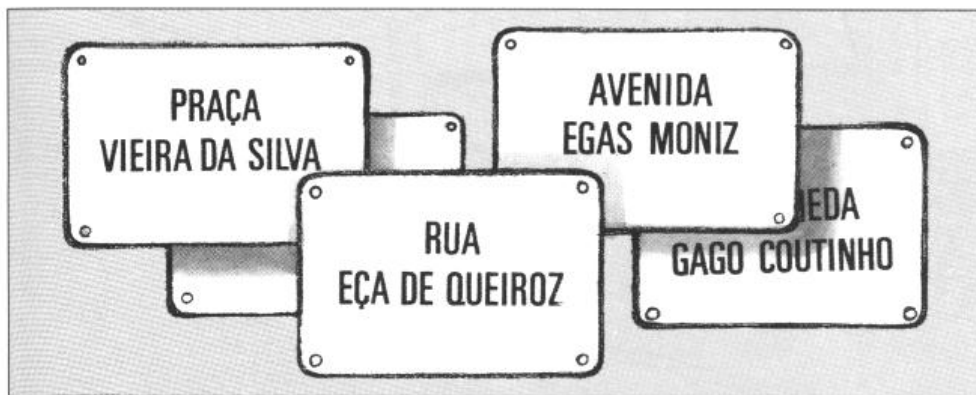
Fotografias de duas cidades modernas, típicas dos nossos dias (Lisboa e Porto).

# O PASSADO DO MEIO LOCAL

IDENTIFICO FIGURAS DA HISTÓRIA LOCAL PRESENTE NA TOPONÍMIA ESTATUTÁRIA, TRADIÇÃO ORAL, ETC.

Tu e os teus colegas, quando vão para a escola têm que percorrer caminhos, ruas e avenidas, praças, parques e jardins.

Repara que cada um desses lugares tem o seu nome, muitas vezes o nome de pessoas famosas : artistas, professores, médicos, políticos, militares, escritores e outros.



Todas essas pessoas foram importantes, porque o seu trabalho e as suas obras ajudaram as populações e contribuíram para melhorar a sociedade em que viveram. As populações sentem-se orgulhosas por essas pessoas e, para as recordar, dão os seus nomes às ruas, praças, jardins, etc., das suas localidades. Nalguns casos erguem-se estátuas, colunas ou arcos, em sua memória.



Praça Marquês de Pombal, Lisboa.



Escritor Eça de Queirós

NOME

DATA

**1 – Informa-te sobre pessoas que se notabilizaram no teu concelho.**

**Preenche os quadros sobre três dessas pessoas importantes que contribuíram para a história local**

<b>Nome</b>	
<b>Em que se destacou.</b>	<b>Forma como a comunidade distingue e homenageia a pessoa.</b>

<b>Nome</b>	
<b>Em que se destacou.</b>	<b>Forma como a comunidade distingue e homenageia a pessoa.</b>


<b>Nome</b>	
<b>Em que se destacou.</b>	<b>Forma como a comunidade distingue e homenageia a pessoa.</b>

# O PASSADO DO MEIO LOCAL

CONHECER FACTOS E DATAS IMPORTANTES PARA A HISTÓRIA LOCAL

Origem da povoação, concessão de forais, batalhas, lendas históricas,...

Todas as povoações têm datas e factos importantes. Essas datas e factos formam a sua história, o seu passado.




A cidade do *Porto* não foi sempre como é hoje.

No ano de **1123**, foi-lhe concedido um foral pelo bispo *D. Hugo*.

Um **foral** era um documento que dava regalias ao povo que o recebia e nele estavam contidas as leis pelas quais devia ser governado.

No ano de **1832**, a cidade do *Porto* foi cercada mas resistiu até ao fim do Cerco, que demorou um ano.

Com a ajuda dos teus pais ou avós, informa-te sobre datas e factos importantes para a história da tua localidade.



Foral concedido a Vila Nova de Gaia por D. Manuel I, no ano de **1506**.

NOME

DATA

**1 – Investiga sobre a origem da tua localidade :**

- Quando se formou ?

---

---

- Como se formou ?

---

---

**2 – Assinala com uma  a resposta certa.**

À tua localidade já foi concedido algum foral ?

Sim

Não

- Se assinalaste o sim, diz quem o concedeu e o que sabes sobre ele.

---

---

---

**3 – Que acontecimentos marcaram a história da tua localidade ?**

---

---

---

**4 – Existe alguma lenda sobre a tua terra ? Se existe, conta-a.**

---

---

---

# O PASSADO DO MEIO LOCAL



CONHEÇO VESTÍGIOS DO PASSADO LOCAL

construções., alfaias, instrumentos, costumes, tradições e origem do feriado municipal.

Ao caminhares pelas ruas da tua localidade vês, geralmente, blocos de casas Parecidas, feitas para as pessoas nelas viverem. Mas também encontras alguns Edifícios diferentes pela utilidade que têm : *Câmara Municipal, igrejas, escolas, hotéis, armazéns, etc.*



Os monumentos que hoje conhecemos – *palácios, castelos, igrejas, catedrais*, entre outros – foram construídos há muitos anos. Os monumentos têm grande valor e antiguidade. Além dos que já referimos, há outros com grande valor cultural : *pelourinhos, habitações e pontes antigas, esculturas e monumentos pré-históricos.*



# O PASSADO DO MEIO LOCAL

CONHEÇO VESTÍGIOS DO PASSADO LOCAL

construções., alfaias, instrumentos, costumes, tradições e origem do feriado municipal.


A maior parte das vezes os monumentos mostram-nos o passado das localidades. Geralmente, situam-se na parte mais antiga dessas localidades e são muito visitados por turistas nacionais e estrangeiros.

Informa-te sobre o **feriado municipal** do teu município :

- a data em que se comemora;
- qual o nome desse dia;
- o motivo da festa e...
- como se comemora.

## A IMPORTÂNCIA DO PATRIMÓNIO

Muitas pinturas antigas, guardadas nos **museus**, também nos mostram a história passada das pessoas e das localidades. Nos museus guardam-se, igualmente, *alfaias agrícolas, instrumentos musicais, trajes típicos* e *diversas peças* que, noutros tempos, eram usadas pela população nas suas actividades.



Os **museus** são fundamentais para salvaguardar o património.

É obrigação de toda a população preservar o **património histórico**.



NOME

DATA

**1 – Que actividades ocupavam os homens primitivos ?**

---

---

**2 – Quais são os tipos de aglomerados populacionais em que hoje vivemos ?**

---

**3 – Como se chama a rua onde vives ?**

---

**3.1. – Se tem o nome duma pessoa, quem foi ela ?**

---

**3.2. – O que fez de importante ?**

---

**4 – Escreve o nome de ruas, praças, jardins ou parques dedicados a pessoas ilustres da tua localidade.**

---

---

**5 – Há estátuas e outros monumentos na tua localidade ? Indica-os.**

---

**6 – Para que servem os museus ? O que se guarda neles ?.**

---

---

**7 – Quando é o feriado municipal na terra onde vives ? O que se comemora ?**

---

# RECONHECER SÍMBOLOS LOCAIS

CONHEÇO OS SÍMBOLOS DA FREGUESIA, DO CONCELHO E DO DISTRITO

Bandeiras e brasões

Os símbolos locais são os brasões e as bandeiras. Eles recordam os acontecimentos e factos importantes da história da região.

## Alguns brasões



Brasão do Concelho de Lisboa



Brasão da freguesia de Castelo - Lisboa



Bandeira da freguesia de Castelo - Lisboa

As bandeiras têm no centro o brasão.

Nas festas e nos momentos solenes, as bandeiras estão presentes.

# RECONHECER SÍMBOLOS REGIONAIS

CONHEÇO OS SÍMBOLOS DAS REGIÕES AUTÓNOMAS DOS AÇORES E DA MADEIRA

Bandeiras, brasões e hinos

Portugal é um país formado pelo território continental e pelos arquipélagos (conjunto de ilhas) dos Açores e da Madeira.

As regiões Autónomas da Madeira e dos Açores têm símbolos regionais: a bandeira e o hino.

## AÇORES

### Bandeira



### Brasão



Deram frutos a fé e a firmeza  
no esplendor de um cântico novo:  
os Açores são a nossa certeza  
de traçar a glória de um povo.  
Para a frente! Em comunhão,  
pela nossa autonomia.  
Liberdade, justiça e razão  
estão acesas no alto clarão  
da bandeira que nos guia.  
Para a frente! Lutar, batalhar  
pelo passado imortal.  
No futuro a luz semear,  
de um povo triunfal.

### Hino

De um destino com brio alcançado  
Colheremos mais frutos e flores;  
porque é esse o sentido sagrado  
das estrelas que coroa os Açores.  
Para a frente, Açoriano!  
Pela paz à terra unida.  
Largos voos, com ardor firmamos,  
para que mais floresçam os ramos  
da vitória merecida.  
Para a frente! Lutar, batalhar  
pelo passado imortal.  
No futuro a luz semear,  
de um povo triunfal.



## MADEIRA

### Bandeira



### Brasão



Do vale à montanha e do  
mar à serra  
teu povo humilde, estóico  
e valente,  
entre a rocha dura  
te lavrou a terra  
para lançar do pão a semente;  
herói do trabalho  
na montanha agreste  
que se fez ao mar em  
vagas procelosas,  
os louros da vitória  
em tuas mãos calosas  
foram a herança  
que a teus filhos deste.



### Hino

### Refrão

Por esse mundo além,  
Madeira, teu nome continua  
em teus filhos saudosos,  
que além-fronteiras de ti  
se mostram orgulhosos,  
por esse mundo além,  
Madeira, honraremos  
tua história;  
na senda do trabalho  
nós lutaremos, alcançaremos  
teu bem-estar e glória.

# OUTRAS CULTURAS DA MINHA COMUNIDADE

CONHECER ASPECTOS DA CULTURA DAS MINORIAS QUE HABITAM NA LOCALIDADE OU BAIRRO  
Costumes, língua, gastronomia, trajes, música...

Espalhadas por todo o país, vivem pessoas em pequenas comunidades com diferentes culturas.


Os seus costumes, as suas tradições, a sua religião, os seus hábitos e, por vezes, Até a sua língua são diferentes dos da maioria dos portugueses.



**Angolanos** tocando música na Rua Augusta.



A comunidade de **chineses** em Portugal dedica-se ao comércio, à restauração e ao artesanato.



A comunidade **cabo-verdiana** trabalha, normalmente, na construção civil.



A comunidade **cigana** trabalha nas feiras e vendem de tudo, especialmente roupa.



Todas as comunidades têm um **artesanato**, uma religião, um tipo de alimentação diferente de nós, devido à sua cultura.

Normalmente, estes povos vêm para Portugal em busca de melhores condições de vida ou apenas de um trabalho melhor.


**TODAS AS CULTURAS DEVEM SER RESPEITADAS.**

Conviver com pessoas com modos de vida e costumes diferentes, só nos enriquece.

NOME

DATA

**1 – Observa e completa.**



• Esta gravura representa a \_\_\_\_\_  
\_\_\_\_\_.



• Este símbolo chama-se um \_\_\_\_\_  
e representa \_\_\_\_\_.

**2 – Preenche o quadro sobre um minoria (pequena comunidade) que viva na tua localidade e responde às perguntas que se seguem.**

Nome da comunidade \_\_\_\_\_

Costumes e tradições

Música

Língua

\_\_\_\_\_  
\_\_\_\_\_  
\_\_\_\_\_  
\_\_\_\_\_

• Qual o país de origem ? \_\_\_\_\_

• Em que se ocupam ? \_\_\_\_\_

• Que vestuário usam ? \_\_\_\_\_

• Como se divertem ? \_\_\_\_\_

**3 – Diz quem são os teus familiares directos.**

---

---

**4 – Completa :**

- Os pais dos meus pais são meus \_\_\_\_\_
- Os filhos dos meus tios são meus \_\_\_\_\_
- Os irmãos dos meus pais são meus \_\_\_\_\_

**5 – Diz qual é, para ti, o facto mais importante da história da tua família.**

---

---

**6 – Define uma década.**

---

---

**7 – Diz o nome de uma das pessoas importantes da história da tua localidade ou da tua região.**

---

---

- Porque se tornou importante ?

---

---

---

---

**8 – Assinala com uma  o património que existe na tua localidade.**

castelo

moinhos

fábricas antigas

igrejas

pontes romanas

pelourinhos

solares

alfaias

monumentos antigos